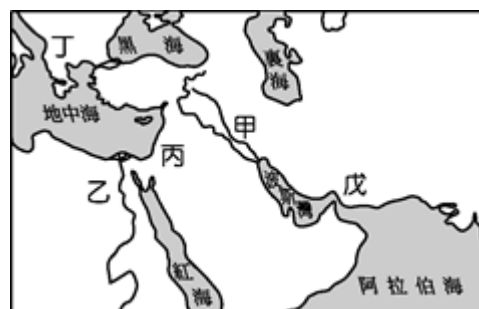


一、選擇題（第 1 至第 24 題每題 3 分 第 25 至第 31 題每題 4 分）

- ()01、全球穆斯林人口成長快速，市場商機相當龐大，資訊科技產業針對該族群的需求，設計相關產品，例如智慧型手機的應用程式可在任何地點指引禮拜方向、提醒禮拜時間、判別經過認證的食物等。下列何者也是針對上述族群所設計？(A) 線上拉丁文翻譯字典 (B) 手機查詢無牛肉料理的餐廳 (C) [聖經]閱讀筆及口袋電子書 (D) 利用虛擬實境技術做參加的虛擬朝聖。
- ()02、小美到西亞與北非自助旅行，發現西亞與北非當地的氣候類型以乾燥少雨的沙漠及草原氣候為主，因此在她的行李箱中必須準備大量的防晒油及遮陽帽，以避免在烈日下晒傷肌膚。請問：該地區形成這種氣候類型的主要因為何 (A) 暖流流經 (B) 高氣壓籠罩 (C) 距海遙遠 (D) 背西風坡。



圖一



圖二

- ()03、全球各地區文化的特色及發展皆不相同，因此形成不同的文化景觀。附圖一中何地到處可見到清真寺，生活深受伊斯蘭文化影響？(A) 甲 (B) 乙 (C) 丙 (D) 丁。
- ()04、古代的蘇美人、巴比倫人、亞述人及加爾底亞人等曾在「兩河流域」創造輝煌的文明，影響後世深遠。請問：附圖二中哪一個地區為其文明發源地？(A) 甲 (B) 乙 (C) 丙 (D) 丁。
- ()05、利用坎井發展綠洲農業活動可說是伊朗居民生活的智慧，打從 2500 年前就已有坎井，一直沿用至今，坎井主要是利用哪種水源以提供農業活動使用？(A) 湖水 (B) 河水 (C) 雪水 (D) 海水。
- ()06、宗教對於生活方式與文化特色的影響相當大，圖三為某城市境內的宗教區分布狀況，若由圖三中資訊判斷，該城市最可能位於圖四中何處？(A) 甲 (B) 乙 (C) 丙 (D) 丁。



圖三



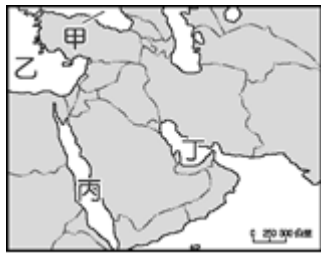
圖四



圖五

- ()07、西亞四周為各海域所包圍，對其交通的影響甚大，例如地中海即為西亞和南歐國家的主要航運路線。請問：該海域位於附圖五中何處？(A) 甲 (B) 乙 (C) 丙 (D) 丁。
- ()08、西亞近年來由於政治上的紛爭，戰亂不斷，成為國際新聞上的焦點。請問：下列有關西亞的位置敘述，何者正確？(A) 南回歸線經過 (B) 位於非洲大陸西側 (C) 位於亞洲西南方 (D) 美、歐、亞三洲接觸帶。
- ()09、甲國的石油產量並不高，卻因重要的交通位置而足以影響國際油價其所面臨的海峽一旦被封鎖，將導致波斯灣油輪經紅海至蘇伊士運河的運輸受阻，而北非的石油通往亞洲市場則必須繞行經過南非，增加運輸時間與成本。下列何者是甲國正確位置的標示？
- ()10、西亞的戰亂不斷，下列哪個國家因為宗教及民族的差異，和周圍鄰國經常發生衝突？(A) 沙烏地阿拉伯 (B) 伊朗 (C) 土耳其 (D) 以色列。



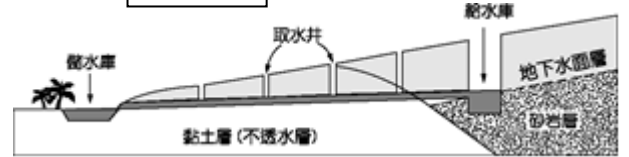


圖四

圖五



圖六



- () 11、能源問題已成為目前世界經濟發展的隱憂，其中西亞由於石油蘊藏量相當豐富，因此成為世界各國所關注的焦點，一有風吹草動便影響了國際的能源價格。請問：西亞地區以圖四中哪一個海域附近的石油蘊藏量最多？
(A) 甲 (B) 乙 (C) 丙 (D) 丁。
- () 12、圖五為敘利亞的位置，敘利亞難民問題引起全球關注，當地政府軍和反叛軍長達四年的內戰中，造成 1000 萬人逃離戰亂的家園，前往鄰國避難，再就近前往歐洲。請問：上述鄰國最可能是下列何國？
(A) 科威特 (B) 阿富汗 (C) 土耳其 (D) 阿拉伯聯合大公國。
- () 13、西亞的產業活動受到自然環境的影響相當大，形成各種不同的生活方式。請問：西亞傳統的灌溉工程如圖六所示，當地興建該水利工程最主要的原因為下列何者？(A) 地形崎嶇起伏 (B) 土壤鬆散流失 (C) 氣候乾燥少雨 (D) 河川定期氾濫。

題組一 西亞地區的戰略地位重要且天然資源相當豐富，因此對於世界局勢的影響力相當大。圖七為該區某重要資源的分布及運輸路線圖：請問：

圖七



- () 14、由圖七中的管線分布路線加以判斷，該資源最主要的生產中心位於下列何處？(A) 安納托利亞高原 (B) 兩河流域 (C) 波斯灣沿岸 (D) 阿拉伯高原。
- () 15、承上題，圖七管線所運輸的資源最可能為下列何者？
(A) 鐵礦 (B) 煤礦 (C) 石油 (D) 天然氣。
- () 16、此資源為穩定市場價格，成立了哪個區域性經濟組織？(A) 歐盟 (B) 石油輸出國家組織 (C) 世界貿易組織 (D) 東南亞國協。

題組二 世界各地的生活方式受到各種自然環境及文化發展的影響而不同。然而圖

八中深色地區的生活型態卻極為相近，因此被歸納為同一個文化區。

- () 17、該區域的地理位置位於古大陸的中心點、因此在大航海時期來臨之前，成為世界古文明發展的重心，請依圖八中位置判斷，上述重心位於下列哪三個大陸之間？
(A) 歐洲、亞洲、美洲 (B) 亞洲、非洲、美洲 (C) 歐洲、亞洲、非洲 (D) 歐洲、非洲、美洲。
- () 18、文化的發展和自然環境條件關係甚大，該文化區的居民因氣候的關係傳統的生活方式以下列哪一種方式為主？
(A) 綠洲農業及游牧 (B) 園藝農業 (C) 地中海農業 (D) 熱帶栽培業。
- () 19、由於生活環境的因素影響，該文化區盛行的宗教信仰多配合當地的自然條件而制定，形成相同的信仰圈。下列哪一個國家的宗教信仰和當地相同，因此前去經商貿易時，較容易融入當地社會？
(A) 越南 (B) 印度 (C) 澳洲 (D) 巴基斯坦。



圖八

題組三西亞地區的衝突不斷，該區內部的宗教及族群衝突為主要原因之一，

其中某宗教聖地的示意圖，如附圖九所示。請問：

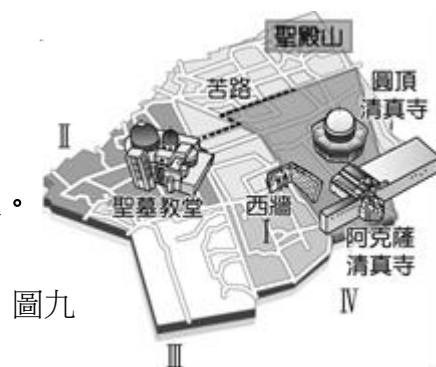
()20、西亞地區不同族群對聖地的爭奪，是造成地區衝突的主要原因之一。

請問：附圖九中該聖地最可能為下列(A)麥加(B)耶路薩冷(C)伊斯坦堡(D)巴格達。

()21、承第 20 題，該聖地對於阿拉伯人的意義最為深遠，

因此每年均有許多教徒前往附圖九中哪一區域朝聖膜拜？

(A) I (B) II (C) III (D) IV。



圖九

題組四隨著全球化與經濟的發展，近年來臺灣跨國婚姻愈來愈常見。王安的外籍配偶是一

個虔誠的伊斯蘭教徒，兩人打算一起前往西亞朝聖。附圖十為他們前往此宗教兩大聖地。請問：

()22、王安的配偶來自一個以伊斯蘭教為主要信仰的國家，最可能是下列何國？

(A)泰國(B)中國(C)越南(D)印尼。

()23、前往圖十中的聖地 1 朝聖時，可能會有下列何種遭遇？

(A)塗防晒油避免被曬傷(B)午後常會遇到雷陣雨

(C)品嚐當地聞名的乳豬(D)沿途常見高山冰河。

()24、前往圖十中的聖地 2 朝聖，發現當地除了伊斯蘭教之外，

還可以見到下列哪些宗教遺跡？(甲)基督教(乙)印度教(丙)猶太教(丁)佛教。

(A)甲乙(B)乙丁(C)甲丙(D)丙丁。



圖十

題組五到西亞旅遊的人，經常會購買當地的名產—椰棗。椰棗生長於炎熱而乾燥的氣候中，紅熱的椰棗可供食用，保鮮不易，大部分是以乾果進行買賣，只有在產地才吃得到新鮮的椰棗。椰棗樹主要分布在西亞和北非，具有耐旱、耐熱的特點。椰棗果肉含糖量高，可作糧食、製糖或釀酒，籽可以榨油，堪稱「沙漠麵包」，更是西亞和北非國家重要的出口特產。請問：

()25、由文中內容推論，椰棗生長在何種氣候類型 (A) 熱帶沙漠氣候 (B) 溫帶草原氣候 (C) 溫帶沙漠氣候 (D) 溫帶地中海氣候。

()26、由文中椰棗的生長環境及分布地區判斷，椰棗屬於何種農業類型？(A)園藝農業(B)綠洲農業(C)熱帶栽培業 (D)溫帶地中海氣候。

()27、椰棗的營養高，在國際市場為高價值的經濟作物，在臺灣購買到的椰棗最可能來自哪個國家？(A)日本(B)法國 (C)伊朗(D)西班牙。

()28、椰棗堪稱「沙漠麵包」，為當地居民的重要飲食，這些居民的宗教大多為下列何者？(A)猶太教(B)基督教 (C)印度教(D)伊斯蘭教。

題組六我國外交部及觀光局為擴展臺灣的外籍旅客，推出各種措施及方案

希望建立友善的旅遊環境，發展無煙囪工業—觀光業，更積極推動清真認證，如圖十一。請問：

()29、觀光局欲在該宗教信仰區進行廣告宣傳，圖十二中哪一個國家最為適合？(A)甲(B)乙(C)丙(D)丁。

()30、我國政府在推行食品清真認證時、除了規定商家屠宰的過程外，還須避免滲入下列何種肉類？(A)魚肉(B)牛肉 (C)羊肉(D)豬肉。

()31、阿桂是來自臺灣墾丁旅遊的穆斯林，她所朝拜的方向最接近下列何者？

(A)東方(B)西方(C)南方(D)北方。



圖十一



圖十二