

一、選擇題（1~20 題三分, 21~30 題四分）

- ()01、「努山塔拉」將於西元 2024 年正式為印尼新首都。由於原先首都「甲」汙染嚴重、交通壅塞、地層下陷等環境問題，印尼政府宣布首都遷往婆羅洲的「東加里曼丹省」，以期解決其人口超過負載的現象。根據圖一，請問：「甲」為哪座城市？
(A)雅加達 (B)馬尼拉 (C)吉隆坡 (D)曼谷
- ()02、承上題，「努山塔拉」的座標為(1°S,116°E)，請問下列何者應為「甲」的座標？
(A)(6°S,106°E) (B)(6°N,106°E)
(C)(6°N,120°E) (D)(6°S,120°E)
- ()03、印尼總統宣布，選擇「努山塔拉」為新首都的理由之一為「受天然災害的影響較小」。請問下列何者不是印尼常見的自然災害？(A)地震 (B)火山噴發 (C)洪患 (D)乾旱
- ()04、下表為中南半島與印度半島的整理資料，請選出正確的選項。



▲圖一

地區	(A)位置	(B)地形	(C)氣候	(D)農業
中南半島	北為橫斷山脈與中國相鄰	北高南低	熱帶季風	棉花、茶葉
印度半島	北為喜馬拉雅山與中國相隔	環太平洋火山地震帶	熱帶雨林	熱帶栽培業

- ()05、表一為越南胡志明市與新加坡的氣候資料，請選出正確的敘述。

- (A)新加坡位於南半球，胡志明市位於北半球
(B)胡志明市冬季較多西北風
(C)新加坡屬於季風氣候
(D)兩者皆屬熱帶氣候

▼表一

地區	胡志明市		新加坡	
月份	雨量	均溫	雨量	均溫
一月	13.8	26.4	243.2	27
二月	4.1	27.7	159.6	27
三月	10.5	29.2	185.7	28
四月	50.4	30.2	178.9	28
五月	218.4	29.6	171.3	28
六月	311.7	28.5	162.1	28
七月	293.7	28.2	158.7	28
八月	269.8	28.1	175.4	28
九月	327.1	27.9	169.2	27
十月	266.7	27.6	193.8	27
十一月	116.5	26.9	256.9	27
十二月	48.3	26.1	287.4	26
年雨量與年均溫	1931	28.03	2342.5	27

- ()06、中國自 1993 年以來在瀾滄江建立 11 座大壩，致使湄公河附近的漁民農夫苦不堪言，漁獲量急劇下降。在乾旱季節，湄公河鄰近國家 70%水資源都仰賴中國控制的瀾滄江「高抬貴手」。圖二為湄公河流域圖，請問，下列哪個國家受到的衝擊最少？
(A)越南 (B)寮國
(C)柬埔寨 (D)馬來西亞

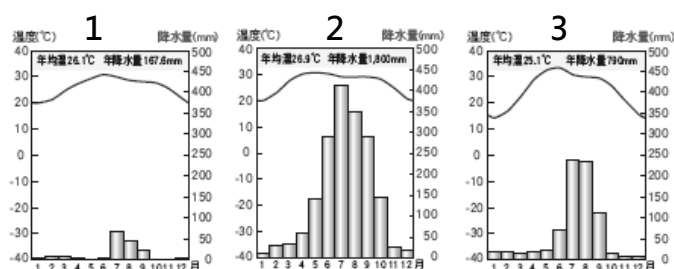


▲圖二

註：「湄公河」發源於青藏高原，中國境內稱為「瀾滄江」，進入中南半島後稱為「湄公河」。

- ()07、印度大平原由河川沖積而成，由於地處低緯，氣候溫暖。請問此區的降雨特徵為何？
(A)西多東少 (B)東多西少 (C)沿海多雨，內陸少雨 (D)內陸多雨，沿海少雨
- ()08、阿虎想要趁著暑假到印度去觀光，請問此時的印度最容易發生何種天氣？
(A)酷熱乾燥 (B)連日陣雨 (C)低溫嚴寒 (D)涼爽舒適
- ()09、印度半島的地形大致可分為北、中、南三部分，請問南部的地形主體較相近於下列何者？
(A)朝鮮半島南部 (B)日本本州島 (C)紐西蘭北島 (D)澳洲西部

- ()10、這條河被當地人視為「聖河」，每到了一年一度的沐浴祭祀，教徒認為這條河可以洗去人一生的罪孽，因此舉凡洗漱、浸身、祈福、火葬皆會在這裡舉行。請問，這條河指的是何者？(A)印度河 (B)湄公河 (C)紅河 (D)恆河
- ()11、承上題，由於信仰的關係，當地的麥當勞甚至推出「特製版」的漢堡。請問下列哪一種肉品最不可能成為其產品？(A)魚肉 (B)雞肉 (C)植物肉 (D)牛肉
- ()12、若按照恆河的上游到下游的氣候圖排列，請問下列何者正確？(A)123 (B)321 (C)132 (D)231



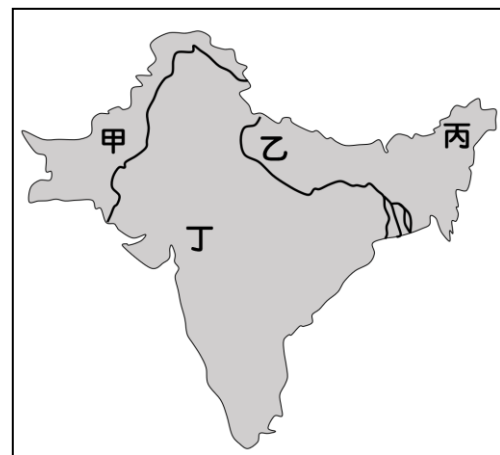
- ()13、印度的熱季是一年當中最高溫的時期，而且因為缺乏水氣的關係，溫度有時可高達攝氏 50 度。請問下列何者不是熱季形成的主要原因？(A)位於赤道附近 (B)東北季風減弱 (C)太陽直射 (D)雨季尚未開始
- ()14、恆河與印度河為印度半島兩大重要河川，關於這兩條河的比較，下列何者正確？(A)皆流向孟加拉灣 (B)皆為古文明發源地 (C)下游皆屬濕潤氣候 (D)主要流向皆為南北向
- ()15、「羅興亞人」是居住在緬甸西北部的一群人，緬甸政府認為他們是來自鄰國的非法移民，因此不承認其合法公民，也因此讓羅興亞人長期生活在社會階級的最底層。2017 年，緬甸發生政變，學者認為衝突的原因之一來自於宗教差異。請問：緬甸最主要的信仰為何者？(A)佛教 (B)伊斯蘭教 (C)天主教 (D)印度教
- ()16、承上題，羅興亞人最有可能來自哪國？(A)斯里蘭卡 (B)菲律賓 (C)孟加拉 (D)越南
- ()17、圖三為東南亞國協的旗幟，關於此組織及相關敘述，何者正確？(A)中間代表的作物為小麥 (B)組織內的國家使用統一貨幣 (C)組織內的國家大多有被殖民的背景 (D)組織內的國家全面免關稅
- ()18、東南亞國協提出「區域全面經濟夥伴協定」，企圖與中、日、韓、紐、澳等國結盟。對於大多數結盟國家的經濟性質，東南亞國協可提供下列哪兩項要素？(A)資金、技術 (B)原料、技術 (C)勞力、資金 (D)原料、勞力
- ()19、「西元 2019 年 8 月，美國宣布針對中國出口到美國的消費品與電子產品增加關稅，事實上，大規模的經濟戰爭已經影響了全球製造部門的佈局。在這場風暴，台商也必須重新考慮產業佈局的問題，而球鞋產業自 2010 年代起陸續從中國外移至東南亞，所以影響較小。」根據上文，目前球鞋產業最可能設廠在下列哪個國家？(A)印尼 (B)美國 (C)孟加拉 (D)南韓
- ()20、一部探討關於印度的電影-「三個傻瓜」裡曾經提到，印度的父母大多希望自己的孩子當工程師，事實上，印度是世界第二大軟體出口工業國。請問：下列哪個城市是資訊與科技產業的聚集地，而有「印度矽谷」之稱？(A)孟買 (B)加爾各答 (C)新德里 (D)邦加羅爾



▲圖三

題組一：飲料作物（茶葉）

- ()21、18 世紀的印度受到殖民母國的影響開始大量種植茶葉，請問其殖民母國為何？(A)美國(B)法國(C)英國(D)荷蘭
- ()22、台灣的「日出茶太」手搖飲料店在印度新德里開的分店全部倒閉，有人分析台灣奶茶在印度不受歡迎的原因之一是「不夠甜」。請問：圖四中何處是甘蔗產區？(A)甲(B)乙(C)丙(D)丁
- ()23、在印度，奶茶一定要甜滋滋、熱熱的喝，並且一天要喝好多次，對於印度人而言，奶茶已經和日常生活密不可分。請問：圖四中何處是茶葉產區？(A)甲(B)乙(C)丙(D)丁
- ()24、根據茶葉的生長特性，何處較適合種植茶葉？(A)澳洲西部高原 (B)紐西蘭南島平原 (C)中國東南部丘陵 (D)台灣東部盆地



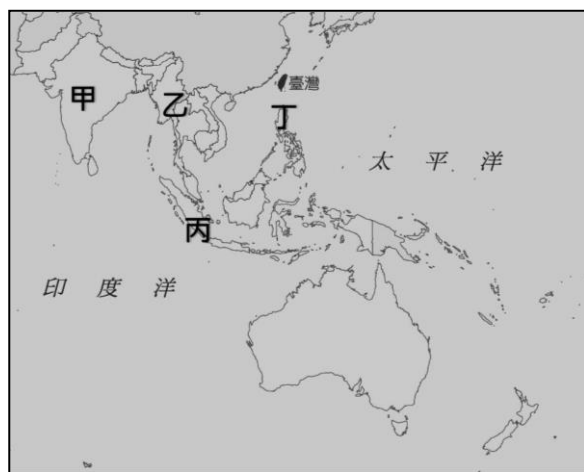
▲圖四

題組二：飲料作物（咖啡）

對很多人來說，「蘇門答臘」四個字唯一的具體連結，大概就是極具盛名的「曼特寧咖啡」，除此之外，「蘇門答臘」只是一個空洞又遙遠的地理名詞。

從上空俯瞰，三千呎以下的這個熱帶雨林島嶼地景，是一片沒有盡頭的熱帶種植園。數百年前，荷蘭人與英國人在這座島上實行殖民經濟，一片片的油棕園、橡膠園、柚木園、可可園—當然，一定還有咖啡園，取代了原來的熱帶雨林。殖民帝國的富庶強大，其代價是人類共同的自然資產—熱帶雨林的消失，一代代當地人民的勞動剝削與悲慘奴役。

節錄自《趙樣手沖咖啡 FB》



▲圖五

- ()25、請問上述曼特寧咖啡的主要產地在圖五中的何處？
(A)甲(B)乙(C)丙(D)丁
- ()26、根據研究顯示，全球連鎖咖啡店星巴克每賣出一公斤的咖啡豆，其收入約為新台幣 6700 元，然而咖啡農夫每公斤的收購價格卻只有約新台幣 18 元。請問造成咖啡農夫的利潤難以增加的主要原因為何？
(A)咖啡產量太少 (B)全球的咖啡市場太小
(C)國際價格掌握在已開發國家 (D)種植咖啡的技術掌握在已開發國家
- ()27、下列哪項並非熱帶栽培業的特色？
(A)大規模種植多元作物 (B)集約耕種 (C)以經濟作物為主 (D)產品大多出口外銷

題組三：

一場寧靜革命正在重新塑造電話客服中心這個行業：菲律賓的崛起。

AT&T、摩根大通銀行、線上旅遊業者 Expedia 等企業，已經相繼在菲律賓雇用或自設客服中心。這些就業機會分別來自美國、歐洲，以及在相當程度上來自印度，因為印度的委外承包業者也跟著它們的客戶來到了菲律賓。

海外客服中心最早興起於印度。根據統計，印度的客服中心共雇用 35 萬名客服專員。菲律賓總人口大約為印度的十分之一，但客服中心雇用的客服專員卻多達 40 萬人。菲律賓的客服中心專員收入通常高於印度同行（起薪平均每個月 300 美元而不是 250 美元）。業界主管表示，他們值得這個價錢，因為美國客戶認為，與有濃厚口音的印度客服中心專員相比，這些菲律賓專員的英語更容易聽懂。

菲律賓人小學一年級就開始學習英語，他們吃漢堡，而且關心美國籃球動態。在印度，公立學校要到三年級才安排英語課程，只有精英族群食用美式速食，至於全國最主要的消遣娛樂則是板球。

2008 年，總部設在印度孟買的委外承包公司 Aegis Global 併購馬尼拉的人力支援公司 People Support，目前大約雇用 1 萬 3000 名菲律賓人。該公司執行長桑古普塔指出，菲律賓「把東方的體貼好客、關心的態度與憐憫，與我所謂的美國化做了獨特的融合」。

儘管如此，印度委外承包業的收入仍然約為菲律賓的 10 倍之多。短期內這種局面不太可能改變，主要是因為印度有 12 億人口，31%在 14 歲以下（菲律賓總人口 9300 萬，約 35%在 14 歲以下）。 《節錄自 紐時摘譯：電話客服出現新霸主 菲律賓登場》

- ()28、根據文章內容，業主願意花高價雇請菲律賓的客服專員的主因為何？
(A)服務更加體貼 (B)口音更加易懂 (C)有共同的消遣 (D)地理位置接近
- ()29、下列哪項因素並非歐、美國家的企業將部份工作委外承包至印度的主要原因？
(A)宗教信仰一致 (B)普遍使用英語 (C)工資較低廉 (D)有近 12 小時的時差
- ()30、文末提到印度委外承包業的收入仍高於菲律賓，除了總人口的差距之外，還可能有哪項因素？
(A)印度向跨國企業提供軟體設計的服務 (B)印度的內需市場比較大 (C)印度成為全球製造的中心 (D)印度政府推行計劃經濟