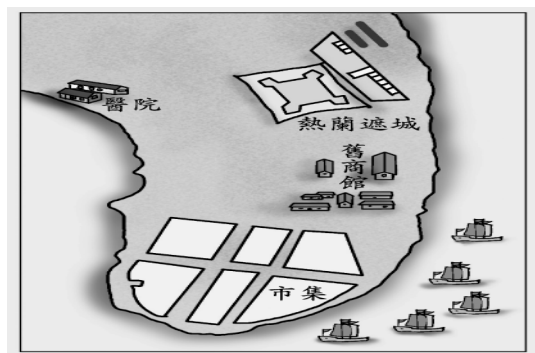



一、選擇題(每題5分)

- ()人類進入新石器時代後，技術上有重大的進步，這些改變使他們對大自然的依賴程度逐漸減少、生活得到改善。關於新石器時代的特點，何者為非？ (A) 與外地貿易 (B) 磨製石器 (C) 飼養家畜 (D) 出現農業(習作題)
- ()楷峻今年剛升上國中一年級，他在自我介紹時提到：「我屬於臺灣原住民的其中一族，我們族裡有個著名的矮靈祭，歡迎大家來參加。」根據以上敘述，請問：楷俊應該屬於下列哪一族群？ (A)阿美族 (B) 泰雅族 (C)達悟族 (D)賽夏族。(習作題)
- ()小雲看到一篇關於史前文化的報導，文中提到考古隊在八里某處挖掘出先民使用過的陶罐、鐵刀等器具，由這些出土文物，可看出此文化遺址應屬於哪一時代？ (A)舊石器時代 (B)金屬器時代 (C)新石器時代早期 (D)新石器時代晚期。
- ()彥鈞到圖書館查閱臺灣歷史的資料，看到了一張古地圖（如附圖），由圖上的資料判斷，這應是臺灣發展史上的哪一個時期？



- (A) 清領時期 (B)鄭氏治臺 (C) 荷蘭統治 (D)日本殖民統治。(習作題)
- ()距今三百多年前，荷蘭人東來亞洲後，占據臺灣，其重要原因是臺灣的地理位置有利於轉口貿易。當時，荷蘭在亞洲的貿易對象除東南亞之外，主要還包括下列哪兩個國家？〔98.第一次基測〕 (A) 中國、日本 (B) 朝鮮、中國 (C) 日本、俄國 (D) 俄國、朝鮮。(習作題)
- ()宣雅在清朝統治臺灣期間，擔任今臺南一帶西拉雅族佳里社的頭目，他有時候必須擔任族人間土地買賣的公證人。由於西拉雅族自己沒有文字，因此宣雅在簽約時，會使用荷蘭人以羅馬字母拼音寫成的文字，此種文字成為目前臺灣原住民最早的文字紀錄。請問：此種文字所留下來的文書後來被稱為什麼？ (A)《新港文書》 (B)《舢舨文書》 (C)《竹塹文書》 (D)《岸里文書》。(習作題)
- ()子偉到台灣史前博物館參觀，看到以下三項臺灣史前文化中出土的物品。若依照文化的演變來看，圖中三項文物出現的時間順序為何？

(甲)人面陶罐 (乙)打製石器 (丙)玻璃手環



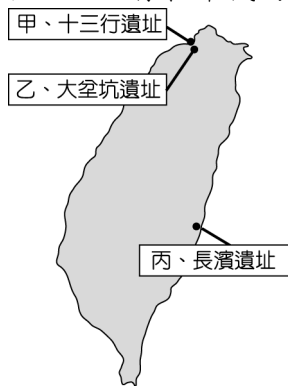
- (A) 乙丙甲 (B) 甲丙乙 (C)甲乙丙 (D) 乙甲丙。
- ()雅貞今年暑假準備到臺東觀光，旅行社安排的行程中包括到當地的遺址公園參觀。請問：如果雅貞想先了解此一遺址的史前文化，他可以上網查閱哪一文化的資料？ (A) 大坌坑文化 (B)圓山文化 (C) 卑南文化 (D)十三行文化。
- ()臺灣大約在四百多年前從史前時代進入了歷史時代，是因為下列哪一項文明的出現？ (A)陶器 (B)鐵器 (C)文字 (D)農耕。
- ()大約七千年前，臺灣進入新石器時代，新石器時代人類生活的共同特徵為：磨製石器、燒製陶器、飼養家畜，以及農業的出現。請問：下列哪些遺址是新石器時期的代表？(甲)大坌坑文化(乙)長濱文化(丙)圓山文化(丁)卑南文化(戊)十三行文化 (A)甲乙丙 (B)甲丙丁 (C)乙丙丁 (D)丙丁戊。
- ()附圖中哪一個文化階段與臺灣「卑南文化」屬於同一時期？



(A)甲 (B)乙 (C)丙 (D)丁。

12. () 某個臺灣文化遺址頗富區域性色彩，如各種磨製大型石器；另有貝塚，保存了大量食用後棄置的貝殼、獸骨、魚骨等；而且從石器的類型可判斷當時已經有進步的農業。請問：以上應為哪一文化遺址？ (A) 長濱文化 (B) 大坌坑文化 (C) 圓山文化 (D) 十三行文化。

13. () 附圖是臺灣三個史前文化遺址的分布圖，若依文化存在年代的先後順序排列，下列何者正確？〔100.北北基〕



(A) 甲→乙→丙 (B) 乙→丙→甲 (C) 丙→乙→甲 (D) 乙→甲→丙。

14. () 附圖代表臺灣北部三個分布區域相同的考古遺址，依據圖片上的說明及排列順序，最上層的應該是哪一考古遺址？



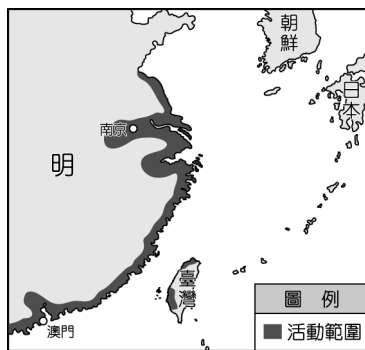
(A) 卑南文化 (B) 長濱文化 (C) 圓山文化 (D) 十三行文化。

15. () 17 世紀的臺灣是海商及走私者活動的地區，如果雲瑞想要了解當時臺灣發展的情形，他可以研讀下列何人的傳記？ (A) 沈葆楨 (B) 鄭芝龍 (C) 郭懷一 (D) 劉銘傳。

16. () 12 世紀時，已有漢人移居澎湖。13 世紀後期，元代曾在澎湖設立哪一機構，加強治安管理？ (A) 澎湖縣 (B) 巡檢司 (C) 市舶司 (D) 澎湖廳。

17. () 16 世紀以後，澎湖與臺灣逐漸成為漢人捕魚、貿易、走私的場所。當時哪一國人也常到臺灣活動，並稱臺灣為高砂、高山國？ (A) 荷蘭人 (B) 葡萄牙人 (C) 西班牙人 (D) 日本人。

18. () 附圖是 16、17 世紀某勢力的活動範圍，他們在這些地區進行走私貿易與劫掠。請問：上述的「某勢力」應為下列何者？



(A) 海商 (B) 流寇 (C) 葡萄牙商人 (D) 聯合東印度公司。

19. () 新航路發現後，歐洲人為獲取亞洲的物品，紛紛東來。17 世紀初，當荷蘭人以巴達維亞為基地發展貿易時，葡萄牙人、西班牙人也分別占領何地為據點？ (A) 澳門、馬尼拉 (B) 香港、馬尼拉 (C) 澳門、麻六甲 (D) 麻六甲、馬尼拉。

20. () 有關荷蘭人與西班牙人殖民統治臺灣的情形，下列何者敘述正確？(甲)前者占領臺灣南部，後者占領臺灣北部 (乙)兩者均致力於傳教工作(丙)兩者均致力於土地的拓墾，使農產量大增(丁)前者終被後者逐出臺灣 (A) 甲乙 (B) 乙丙 (C) 甲丁 (D) 丙丁。